

Diplomausbildung Journalismus 2026–2028 Aufnahmeprüfung 2025

Allgemeinwissen

Pseudonym (nicht dein Name):

Du hast 120 Minuten Zeit, um die vorliegenden Aufgaben (in beliebiger Reihenfolge) zu lösen. Beachte bei der Zeiteinteilung die zu vergebenden Punkte (total 120), sie sind bei den Aufgaben jeweils in eckigen Klammern angegeben. Wir gehen also von einer Beschäftigung von ca. 1 Minute pro Punkt aus.

Bitte schreibe deine Antworten leserlich in den vorgesehenen Raum. Wenn nötig, kannst du für jeweils jede Aufgabe, die du bitte genau angibst, ein Zusatzblatt verwenden. Lege die Zusatzblätter der Prüfung bei, jedes wiederum mit deinem Pseudonym (nicht deinem Namen) versehen.

Wenn du magst, kannst du auf die Rückseite des letzten Prüfungsblattes eine Rückmeldung zur Prüfung zu Händen der Prüfungsredaktion schreiben.

Wir wünschen gutes Gelingen!



A. Zeitgeschehen	20 Punkte
B. Geschichte	20 Punkte
C. Recht und Wirtschaft	20 Punkte
D. Politische Bildung	20 Punkte
E. Gesellschaft und Kultur	20 Punkte
F. Medien	20 Punkte
<hr/>	
Total	120 Punkte

A. Zeitgeschehen

A1 International

a) Nenne Namen oder Funktion der folgenden Personen möglichst genau.

[5]



- b) Für welche Organisationen, Institutionen, Unternehmen oder Apps stehen diese Logos? Wo das Kürzel der Organisation im Logo enthalten ist, musst du weitere Angaben machen. [3]



A2 Globale Herausforderungen

Erkläre die Karikatur (von Barry Blitt) auf der *The-New-Yorker*-Titelseite mit ihren Elementen und Aussagen.



Übersetzungen: *Power*: ein/aus, *mute*: stumm, *stifle*: unterdrücken, *silence*: still, *shun*: meiden, *sack*: entlassen, *banish*: verbannen, *oust*: entheben, *muzzle*: mundtot machen, *axe*: herabsetzen/kündigen, *torture*: quälen, *deport*: abschieben [2]

A3 Europa

Zur Gleichstellung

In diesem Jahr haben, nicht zuletzt ausgelöst durch die Fussball-Europameisterschaft der Frauen, Themen und Debatten rund um Gleichstellung im Alltag, Familienmanagement usw. Aufmerksamkeit gewonnen.

- a) Welche europäischen Länder haben wann das Frauenwahlrecht eingeführt? Verbinde die zutreffenden Jahreszahlen mit den entsprechenden Ländern. [2]

1906 Liechtenstein

1918 Schweiz (auf nationaler Ebene)

1971 Finnland

1984 Deutschland, Österreich, Polen, Luxemburg

- b) Bis der letzte Kanton den Frauen dieses Recht zugesprochen hat, dauerte es noch etwas länger. Nenne den letzten Kanton und die Jahreszahl: [1]

- c) Erläutere die wichtigsten Merkmale der folgenden Begriffe und umreisse in Stichwörtern, was die öffentliche Debatte darum prägt. [2]

Mental Load

Care-Arbeit

- d) In jüngster Zeit haben Femizide an Aufmerksamkeit gewonnen. Das Projekt «Stop Femizid» zählt für die Schweiz 22 Femizide im Jahr 2024 auf. [2]

Was ist mit «Femizid» gemeint?

Ist der Femizid in der Schweiz ein eigener Straftatbestand? Kreuze an (Abzug bei falsch gesetztem Kreuz): Ja (StGB Art. 322) Nein

A4 Die Schweiz und die Welt

- a) Die Schweiz ist ein Exportland. Neben anderen tauchen die folgenden Abkürzungen auf, wenn es um die wirtschaftliche Situation der Schweiz im internationalen Umfeld geht. Entschlüssele die Abkürzungen oder schreibe, wer in diesen Organisationen vertreten ist. [2]

Economiesuisse

KMU

SAV

SECO

SGB

SIHK

SNB

Swissmem

- b) Unterstreiche oben die eine Abkürzung, die für eine *staatliche* Organisation steht. [1]

B. Geschichte

B1 Weltgeschichte Südamerika

Hier siehst du eine moderne Karte Südamerikas.

- a) Beschrifte die aufgeführten Länder direkt in der Karte (wenn eindeutig, kannst du abkürzen), und schreibe die Hauptstadt in der Liste dazu. [2]



Argentinien, Hauptstadt:

Bolivien, Hauptstadt:

Brasilien, Hauptstadt:

Chile, Hauptstadt:

Ecuador, Hauptstadt:

Kolumbien, Hauptstadt:

Peru, Hauptstadt:

Venezuela, Hauptstadt:

- b) Wie heißen die auf der Karte umkreisten Inseln und zu welchem Land gehören sie? [1]
- c) Nenne zwei südamerikanische Länder mit Staatsoberhaupt oder Regierungschef/-chefin. [1]
- d) Bevor Südamerika kolonialisiert wurde, lebten dort bereits verschiedene Kulturen/Ethnien. Nenne eine davon. [1]
- e) Nenne zwei europäische Mächte, die Südamerika im 15./16. Jh. kolonialisiert haben. [1]

- f) Das hier ist ein Screenshot aus dem Beitrag «Der Kampf der Frauen gegen das ‹Gesetz der Zerstörung›» der ARD-Tagesschau (www.tagesschau.de, 8. August 2025). Die Beschriftung ‹Veta Lula› auf dem Plakat bedeutet: ‹Lege das Veto ein, Lula!›:



Das folgende Foto stammt von den Webseiten des WWF, es ist dort überschrieben mit ‹Freies Land: Indigene fordern Schutz ihrer Territorien›:



Erkläre die Konflikte, die hinter diesen Bildern stehen: Worum geht es, wo geschieht es, wer ist beteiligt? [3]

B2 Die Schweiz in der Geschichte

Kantönlicheist

Der Schweizerische Bundesstaat setzt sich aus Kantonen und Halbkantonen zusammen. Wie bekannt ist dir dieser Teil der Schweizer Geschichte?

a) Welches sind die sogenannten Urkantone? [1]

b) Welches ist der jüngste Kanton (gegründet 1979)? [1]

c) Per 1. Januar 2026 ändert sich eine Kantonsgrenze. Warum – und welches sind die betroffenen Kantone? [1]

d) Nenne alle Halbkantone der Schweiz mit ihren Abkürzungen. [1]

e) Nenne drei Kantone, die ein Tier im Wappen tragen, und benenne beides. [2]

Kanton: Tier im Wappen:

Kanton: Tier im Wappen:

Kanton: Tier im Wappen:

Nur ein Kanton trägt eine menschliche Figur im Wappen. Welcher Kanton? Welche Figur?

f) Zeichne in dieser Karte deutlich erkennbar zwei Sprachgrenzen in der Schweiz ein. [1]



B3 Historische Kenntnisse

Den folgenden Jahreszahlen sind historische Ereignisse zuzuordnen. Schreibe zu den Jahreszahlen die Zeichen der passenden Ereignisse. Ein Beispiel (1625 = R) ist bereits ausgefüllt. [4]

1225		1	Der Zweite Burenkrieg in Südafrika bricht aus; in Paris findet die Weltausstellung statt; in China beginnt der Boxeraufstand; Sigmund Freud veröffentlicht «Die Traumdeutung».
1625	R	Δ	Rosa Parks wird verhaftet; Ende der Besatzungszeit in Österreich, der DDR und der Bundesrepublik Deutschland; Gründung des Warschauer Pakts.
1725		L	Der Vietnamkrieg endet mit dem Fall von Saigon; in Spanien endet die Diktatur Francisco Francos.
1775		R	Tod des schottischen u. englischen Königs Jakob I. (James I./VI.).
1900		X	In der Schweiz findet die Fussball-Europameisterschaft der Frauen statt; Papst Franziskus stirbt.
1945		P	Beginn des Amerikanischen Unabhängigkeitskrieges gegen das Königreich Grossbritannien.
1955		O	Der italienische Abenteurer und Schriftsteller Giacomo Casanova wird am 2. April geboren.
1975		K	Ende des Zweiten Weltkriegs; Ungarn, Slowenien und Bulgarien führen das Frauenwahlrecht ein.
2025		7	Geburt des dominikanischen Philosophen und Theologen Thomas von Aquin.

C. Recht und Wirtschaft

C1 Recht

- a) Die nachfolgend aufgeführten Zitate stammen aus dem Obligationenrecht (OR). Markiere deutlich das passende kursiv gedruckte Wort bzw. die passende kursiv gedruckte Zahl. [3]

OR Art. 329f Abs.1: Nach der Niederkunft hat die Arbeitnehmerin Anspruch auf einen Mutterschaftsurlaub von mindestens *12 / 14 / 16* Wochen.

OR Art. 330a Abs.1: Der Arbeitnehmer kann *einmalig / jährlich / jederzeit* vom Arbeitgeber ein Zeugnis verlangen, das sich über die Art und Dauer des Arbeitsverhältnisses sowie über seine Leistungen und sein Verhalten ausspricht.

OR Art. 335a Abs.1: Für Arbeitgeber und Arbeitnehmer dürfen keine verschiedenen Kündigungsfristen festgesetzt werden; bei widersprechender Abrede gilt die *kürzere / durchschnittliche / längere* Frist.

- b) Nenne ein konkretes Beispiel, unter welchen Bedingungen eine Kündigung des Arbeitsverhältnisses durch den Arbeitgeber nach Ablauf der Probezeit missbräuchlich ist. [2]

- c) Erkläre die rechtlichen Unterschiede zwischen einem befristeten und einem unbefristeten Arbeitsvertrag in Bezug auf die Beendigung des Arbeitsverhältnisses. [2]


Zwei Fälle

- d) Frau Keller arbeitet in einem Gleitzeitbüro. Ihr Arbeitsvertrag sieht 40 Stunden Arbeitszeit pro Woche vor. Letzte Woche hat sie 48 Stunden gearbeitet. Hat Frau Keller Anspruch auf eine Entschädigung für die 8 zusätzlichen Stunden? Begründe deine Antwort. [2]

- e) Lilly ist 25 Jahre alt und arbeitet neben ihrem Teilzeitstudium 50 % in einem Unternehmen zu einem Jahreslohn von CHF 35'000.— Sie fragt sich, ob sie die gleichen Ferienansprüche und Sozialleistungen wie Vollzeitangestellte hat. Was denkst du: Hat Lilly Anspruch auf Ferien und Sozialleistungen? Wenn ja, in welchem Umfang? [2]

C2 Wirtschaft

- a) Worauf spielt diese Karikatur (von Peter Gut, NZZ) an, und welche wirtschaftspolitische Kritik drückt sie aus? [3]



- b) Nenne zwei konkrete Auswirkungen, welche die hohen Zölle der USA auf die Exporte und Unternehmen der Schweiz haben. [2]

- c) Was sind Freihandelsabkommen und weshalb sind diese für die Schweiz von zentraler Bedeutung? [2]

- d) Welche volkswirtschaftlichen Risiken und Vorteile entstehen der Schweiz durch den weltweiten Trend zur Deglobalisierung und den zunehmenden Protektionismus? Nenne je ein Beispiel. [2]

Risiken:

Vorteile:

D. Politische Bildung

D1 Staatskenntnisse und Bürgerrechte, Bürgerpflichten

1. In der Schweiz gilt die Gewaltenteilung.

a) Nenne die drei Gewalten und je ein Beispiel auf Bundesebene. [1]

Gewalt	Beispiel auf Bundesebene

b) Vereinzelt ist von einer «vierten Gewalt» die Rede. Wer oder was ist damit gemeint? [1]

2. Anders als in der Schweiz gibt es in all unseren Nachbarländern ein Verfassungsgericht: «Die Verfassungsgerichtsbarkeit prüft die Vereinbarkeit von Hoheitsakten, insbesondere Gesetzen, mit der Verfassung des jeweiligen Staates. Sie hat dabei die Befugnis, die Verfassungswidrigkeit solcher Akte festzustellen.» (Wikipedia)

Nenne Argumente, die es rechtfertigen, dass die Schweiz trotz oder wegen ihres ausgeprägt demokratischen Selbstverständnisses keine Verfassungsgerichtsbarkeit braucht. [2]

3. Bis zum 7. September 2025 konnte unter der folgenden URL an einer Online-Abstimmung teilgenommen werden: www.neuebanknotenserie.ch

a) Worum ging es? [1]

b) Wer durfte an dieser Online-Abstimmung teilnehmen? [1]

4. Wahlkrimi in der Schweiz! Im Herbst 2023 fand im Kanton Schaffhausen der zweite Wahlgang der Ständeratswahlen für die Amtsdauer 2024–2027 statt. Gewählt wurde Simon Stocker (SP) mit 15 769 Stimmen, der damit den bisherigen Ständerat Thomas Minder (parteilos, 13 504 Stimmen) ablösen sollte. Die Schaffhauser Kantonsverfassung enthält aber unter anderem die folgenden Passagen:

- Art. 23: «Stimm- und wahlberechtigt in Kantons- und Gemeindeangelegenheiten sind alle im Kanton wohnhaften mündigen Schweizerinnen und Schweizer.»
- Art. 40: «In den Kantonsrat, den Regierungsrat und den Ständerat sind alle im Kanton stimmberechtigten Schweizerinnen und Schweizer wählbar.»

Daraus leitet sich eine sogenannte «Wohnsitzpflicht» ab, wie sie manche Kantone kennen, das heisst, nur wer im Kanton wohnt, ist auch zum Ständerat usw. wählbar.

Es wurde Stimmrechtsbeschwerde eingereicht, die über alle Instanzen bis zum Bundesgericht weitergezogen wurde: Simon Stocker habe zum Wahlzeitpunkt seinen Lebensmittelpunkt in Zürich gehabt und sei deshalb nicht wählbar gewesen. Das Bundesgericht hiess die Beschwerde im März 2025 gut, Stocker verlor sein Mandat per sofort.

- a) Warum ist das Bundesgericht für diesen Fall überhaupt zuständig? [1]

- b) Wie wurde das Problem des fehlenden Ständerats im Kanton Schaffhausen gelöst? [1]



Es wurden umgehend Ersatzwahlen angesetzt, die Severin Brüngger (FDP) am 29. Juni 2025 gegen Simon Stocker gewann. Thomas Minder hatte nicht mehr kandidiert.

Da bei der ursprünglichen Wahl Thomas Minder als rechtsgültiger Kandidat mit den zweitmeisten Stimmen hinter Simon Stocker gewonnen hatte, ist er nachgerückt und seither Ständerat, dies für den Rest der ursprünglich angesetzten Amtszeit.

- c) Nenne ein Argument, das für die Wohnsitzpflicht, und ein Argument, das gegen die Wohnsitzpflicht für Ständeräte spricht. [1]

D2 Schweizer Politik aktuell

1. 2025 wurde über diese Vorlagen abgestimmt, hier mit jeweils einem Plakatsujet vertreten. Trage das Anliegen mit Titel oder Stichwort und den Ausgang der Abstimmung ein. [2]



	Anliegen:	Ausgang? <input type="checkbox"/> angenommen <input type="checkbox"/> abgelehnt
28. September 2025		
	Anliegen:	Ausgang? <input type="checkbox"/> angenommen <input type="checkbox"/> abgelehnt
28. September 2025		

2. Am 30. November 2025 wird über die sogenannte «Erbschaftssteuer-Initiative» abgestimmt.

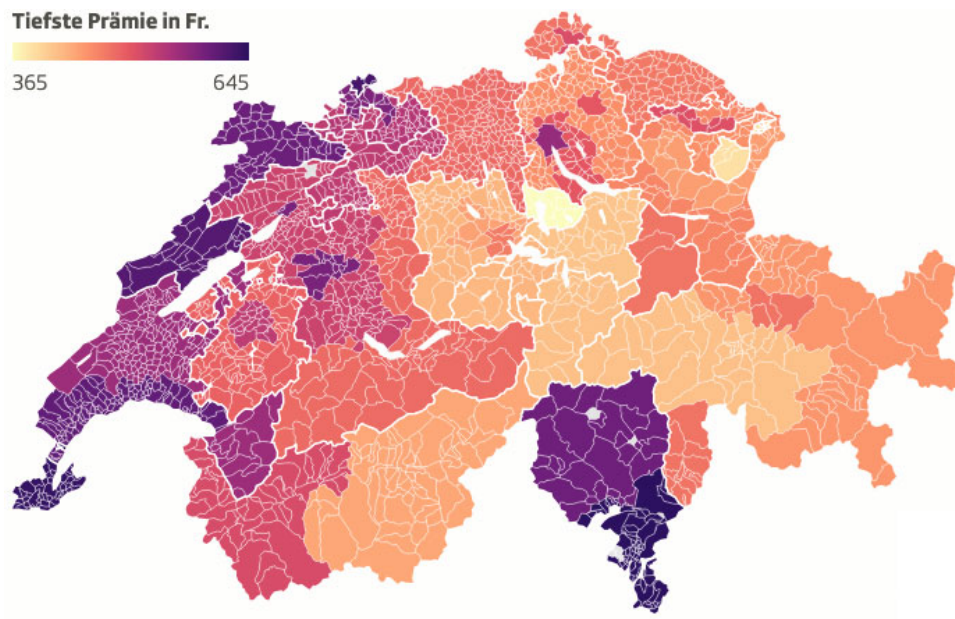
a) Was verlangt die Initiative? [1]

b) Welche Partei oder Organisation hat diese Volksinitiative lanciert und eingereicht? [1]

c) In den Abstimmungsunterlagen finden sich die folgenden Abstimmungsergebnisse. Ergänze beide Male das fehlende Wort. [1]

Abstimmung im 	Abstimmung im 
---	--

3. Was hier so bunt daherkommt, bedeutet für manchen Haushalt eine Belastung: Auch diesen Herbst steigen die Krankenkassenprämien. Dargestellt sind die Krankenkassenprämien 2026 je Gemeinde bei der Grundversicherung für Erwachsene ab 26 mit einer Franchise von 300 Franken (ohne Unfallversicherung). (SRF/Keystone-SDA, BAG, Swisstopo)




- a) Nenne den Kanton, in dem du 2026 die tiefsten Krankenkassenprämien zahlst. [1]
- b) Mit welchen Möglichkeiten lassen sich deine Krankenkassenprämien senken? Nenne zwei Möglichkeiten, wie du selbst deine Prämienlast reduzieren kannst, ohne dass du umziehen musst. [1]

E. Gesellschaft und Kultur

E1 Personen des öffentlichen Lebens

Wer ist abgebildet? Oder welche Tätigkeit üben oder übten die Personen aus (Stichwort)?

[5]



E2 Aktuelles aus Kultur und Gesellschaft

Fülle den Lückentext mit den hier zur Verfügung gestellten Vorschlägen.

[2]

50, Überstunden, ein Drittel, 56, 42+4, Gesundheitsschutz, 1964, Überzeit, Ruhezeit, 11.

In den letzten Jahren haben die Arbeitsbedingung der Ärztinnen und Ärzte in der Schweiz zunehmend Aufmerksamkeit erzeugt. Besorgniserregend ist vor allem der Anteil an Medizinstudierenden, die nach den ersten Praxiserfahrungen einen Berufswechsel in Erwägung ziehen: Dies betrifft rund _____ aller sich in Ausbildung befindlichen Ärztinnen und Ärzte.

Das Arbeitnehmergezet in der Schweiz regelt die Arbeits- und Ruhezeiten sowie den _____ der Arbeitnehmerinnen und Arbeitnehmer. Das Gesetz wurde im Jahr _____ eingeführt (verabschiedet), um der Überlastungen und Überarbeitung Einhalt zu gebieten. Die maximale wöchentliche Arbeitszeit beträgt in der Regel _____ Stunden, wobei es für verschiedene Branchen unterschiedliche Regelungen gibt. Bspw. beträgt für Büroangestellte die maximale Arbeitszeit 45 Stunden pro Woche. Arbeitszeit, die über die vertraglich vereinbarte normale Arbeitszeit hinausgeht, wird wie folgt unterschieden:

- _____ sind Stunden, die innerhalb der gesetzlich zulässigen Höchstarbeitszeit geleistet werden.
- _____ bezeichnet Stunden, die die gesetzliche Höchstarbeitszeit überschreiten und besonders streng geregelt sind.

Die _____ bezeichnet die ununterbrochene Zeitspanne, in der eine Person von arbeitspflichtigen Tätigkeiten befreit ist und sich erholen kann. Regulär muss diese während mind. _____ Stunden zwischen zwei Arbeitstagen eingehalten werden.

Dies ist in der Gesundheitsbranche nicht immer der Fall. Schweizer Assistenzärztinnen und -ärzte arbeiten im Durchschnitt _____ Stunden pro Woche. So haben einige Institutionen aufgrund der Verstösse gegen das Arbeitnehmergezet Massnahmen ergriffen: Das Universitätsspital Zürich beispielsweise plant seit Kurzem eine schrittweise Senkung der Arbeitszeit auf eine _____ -Stundenwoche.

E3 Wer hat's gesagt?

Hier ist alles falsch zugeordnet. Schreibe hinter die Zitate die jeweils richtige Ziffer, damit die Quelle wieder stimmt. [2]

In China fühle ich mich sicherer als in Zürich.

Der Europarat ist kein Wellnesscenter.

Frankly, they need better dirty tricks. The «everyone is Hitler» attack is sooo tired.

Either they're having an affair or they're just very shy.

Our fossil fuel addiction is a Frankenstein monster ... the monster has become master.

I explained to the American president that we're having our Swiss National Day today. He asked me until when Switzerland goes back and I said 1291 – he couldn't believe it.

Ich mache einen Monat lang nichts anderes, als Lesben beim Fussballspielen zuzuschauen.

Zu viel Wind.

<input type="text"/>	1	Elon Musk
<input type="text"/>	2	Tamara Funicello
<input type="text"/>	3	Alain Berset
<input type="text"/>	4	Karin Keller-Sutter
<input type="text"/>	5	Felix Baumgartner (1969–2025)
<input type="text"/>	6	António Guterres
<input type="text"/>	7	Ueli Maurer
<input type="text"/>	8	Chris Martin

E4 Sport

- a) Das Bundesamt für Sport (Baspo) plante eine Kürzung der Subventionen für *Jugend + Sport* um 20 Prozent. Erkläre in Stichwörtern die Bedeutung von *Jugend + Sport* für Staat und Gesellschaft. [1]

- b) Fülle den Lückentext mit Orten, Ländern, Namen und Sportarten aus dem Kasten. [5]

Orte: Basel | Lausanne | Lenzerheide | Liverpool | London | Mollis | Tokio
Länder: Dänemark | Schweden | Schweiz
Namen: Armon Orlik | Camille Rast | Ditaji Kambundji | Diogo Jota | Laura Dahlmeier |
Lia Wälti | Loic Meillard | Marco Odermatt
Zahlen: 2 | 4 | 20 | 22 | 130 | 60 000

Das letzte Sportjahr brachte der Schweiz grosse Emotionen, eindruckliche Siege und auch tragische Verluste.

Bei den Biathlon-Weltmeisterschaften in der war die Schweiz erstmals Gastgeberin. Parallel dominierten die Schweizer Skifahrer und Skifahrerinnen: gewann zum Mal in Serie den Gesamtweltcup und sicherte sich auch die Kristallkugeln im Super-G und im Riesenslalom. Bei den Weltmeisterschaften in Saalbach-Hinterglemm überraschte mit Slalom-Gold. Auch gelang dort der goldene Durchbruch. Die Schweiz feierte damit eine der erfolgreichsten Ski-Saisons ihrer Geschichte mit über Podestplätzen.

Der Frühling 2025 stand dann im Zeichen des Breitensports: Das Eidgenössische Turnfest (ETF) in brachte mehr als Teilnehmende aus über 1'300 Vereinen zusammen. Weiter folgte die Eishockey-Weltmeisterschaft in und, wo die Schweizer Nati mit grossen Hoffnungen antrat und den Schlussrang belegte.

Ein historischer Höhepunkt war die Frauenfussball-EM, die im Juli 2025 in der stattfand. Die Mittelfeldspielerin führte das Schweizer Team als Nati-Kapitänin. Diese verlässt nun nach sieben Jahren Fussball Club Arsenal in und wechselt zu Juventus Turin. Das Finale der EM wurde im St. Jakob-Park in gespielt.

Ein weiteres Highlight war das Eidgenössische Schwing- und Älplerfest (ESAF) in den Abschluss. Zum neuen Schwingerkönig wurde gekrönt.

Mitte September folgte die Leichtathletik Weltmeisterschaften in Die Schweiz war mit Athletinnen und neun Athleten im Land der aufgehenden Sonne vertreten. Das Highlight? krönte sich zur Weltmeisterin über die 100 Meter Hürden und legte einen Schweizerrekord hin.

Doch das Sportlerjahr brachte auch traurige Nachrichten: Ende Juli verunglückte die deutsche Biathlon-Olympiasiegerin beim Bergsteigen tödlich. Kurz darauf starb der portugiesische Fussballer gemeinsam mit seinem Bruder bei einem Autounfall. Der Verein zog seine Rückennummer zurück.

E5 Tour de Suisse

Somebody dance with me! Wir reisen durch das Land und treffen auf Orte, die mit Musikerinnen und Musikern verbunden sind. Zeichne in der Schweizer Karte mit den Ziffern kantonsgenau ein, wo folgende Persönlichkeiten und Bands aus dem Musik-Business herkamen oder wirkten. [5]

- | | |
|---|---|
| 1 Die Aeronauten,
Der böse Bub Eugen | 6 Beatrice Egli
Kings Elliott |
| 2 Züri West,
Steff la Cheffe | 7 Sina,
Stephanie Heinzmann |
| 3 DJ Mico,
Gimma
Breitbild | 8 Ele A,
Gotthard |
| 4 Gjon's Tears,
The Young Gods | 9 Tonhalle Orchester,
Black Sea Dahu |
| 5 Dada (ante portas),
Hecht | 10 NNAVY
Stress |



F. Medien

F1 Medien Schweiz

- a) In einem Artikel vom 22. Mai 2025 beschreibt die Wochenzeitung (WOZ) eine Vereinbarung zwischen der SRG und dem Verband Schweizer Medien (VSM) wie folgt: «Die Liste der Zugeständnisse, die der öffentliche Rundfunk den privaten Medien macht, ist lang. So will die SRG ihre Onlinetextbeiträge künftig auf 2400 Zeichen begrenzen [...]. Ausserdem will sie ihre Onlinemarketingmittel zu sechzig Prozent bei den privaten Verlagen investieren. Auch wird sie ihre Streamingtechnologie teilen. Am grössten aber ist das Zugeständnis bei den Sportrechten.»

Beschreibe, worum es in diesem Konflikt geht, welche Interessen die Hauptakteure vertreten und welche Vorteile die SRG von dieser Vereinbarung haben könnte. Integriere in deine Antwort die folgenden Stichwörter: *Halbierungsinitiative, Sparprogramme, CH-Media, private Fernsehsender, Susanne Wille, TX-Group.* [5]

- b) Und jetzt zu den SRF-TV-Einschaltquoten des ersten Halbjahres 2025. Verbinde die Rekordquote mit der passenden Sendung. (Quelle: SRF: Halbjahresbilanz 2025) [2]

Publikumsstärkste Sendung 965 000 Zuschauende 80.1 % Marktanteil
Meistgesehene Informationssendung 878 000 Zuschauende 68.7 % Marktanteil
Meistgesehene Unterhaltungssendung 764 000 Zuschauende 58.2 % Marktanteil

18. Januar 2025 Abfahrt der Männer in Wengen BE
17. Mai 2025 Eurovision Song Contest (ESC), Final in Basel
28. Mai 2025 Tagesschau, Bergsturz Blatten VS

F2 Medienethik

- a) Die New York Times veröffentlichte am 25. Juli 2025 das Foto eines stark unternährten Kleinkindes aus dem Gazastreifen.

"All the News That's Fit to Print"

The New York Times

VOL. CLXXIV . . . No. 60,591 © 2025 The New York Times Company FRIDAY, JULY 25, 2025 Prices in Canada may be higher \$4.00

THE WEATHER
Today, some sun, hot, thunderstorms late, high 97. Tonight, gusty thunderstorms early, cloudy late, low 74. Tomorrow, clouds and sun, high 86. Weather map, Page B2.

FRENETIC SEARCH OF EPSTEIN FILES, AND NOTHING NEW

ENORMOUS OPERATION

F.B.I. and Justice Dept. Scour for Anything to Quiet Trump Base

By ADAM GOLDMAN and ALAN FEUER

WASHINGTON — This spring, the F.B.I. and the Justice Department made an all-out push involving hundreds of employees to scour the Jeffrey Epstein files with a single goal in mind — find something, anything, that could be released to the public to satisfy the mounting clamor from the angry legions of President Trump's supporters.

But after devoting countless hours to the project, working at times around the clock searching databases, hard drives, network drives, cabinets, desks and closets, the bureau and the department finally acknowledged this month that they had little to show for their efforts. They came to realize, for instance, that there was no specific "client list," which previous investigators had known years ago.

Those conclusions, announced in a memo earlier this month and then repeated this week in a statement by a Justice Department official, capped a frenetic scramble to sort through more than 100,000 pages of materials related to Mr. Epstein, the disgraced financier who died in prison six years ago awaiting trial on sex-trafficking charges. During the inquiry, Justice Department officials diverted hundreds of F.B.I. employees and federal prosecutors from their regular duties to go through the documents at least four times — including once to flag any references to Mr. Trump and other prominent figures.

The bureau's own expert document reviewers raised concerns at one point that the investigation was not only being rushed, but

Continued on Page A12

More on the White House
A1. Conservatives call chatbots "woke" and threaten tech companies, using the same playbook as attacks on social media. PAGE A13

LAWSUIT Naming Mayor Eric Adams, the Justice Department says New York is thwarting immigration enforcement. PAGE A16

Continued on Page A15

Trump Clashes With Fed Chair In a Rare Visit

Pressing Powell on Cost of Bank's Renovation

By COLBY SMITH

WASHINGTON — President Trump sparred on Thursday with Jerome H. Powell, the chair of the Federal Reserve, over the cost of renovations to the central bank's headquarters in Washington during a tour of the active construction site. The visit by the president and other top White House officials was arranged to find evidence to back up allegations by the administration that Mr. Powell had mismanaged the costly project.

Mr. Trump was led through the site by Mr. Powell, who is a frequent target of the president's attacks because of the central bank's unwillingness so far this year to lower interest rates. The president has previously called on Mr. Powell to resign before his term is up in May and has also openly toyed with firing him.

The visit escalated the administration's pressure campaign, which has expanded beyond the Fed's handling of the economy to include the \$2.5 billion revamp of two historic buildings by the National Mall that will become the central bank's headquarters.

Accompanying Mr. Trump to the Fed were Senator Tim Scott of South Carolina, the Republican chair of the Senate Banking Committee; Russell T. Vought, the head of the Office of Management and Budget; and William Pulte, the director of the Federal Housing Finance Agency. Mr. Vought and Mr. Pulte have led the charge against Mr. Powell, accusing him of gross mismanagement of the Fed.

Other attendees included James Blair, the White House's deputy chief of staff, who was recently appointed to the National Capital Planning Commission, a little-known board that has been thrust into the spotlight because of its role in reviewing the Fed's plans. Mr. Blair has called the new headquarters the "Taj Mahal on the National Mall." William Scharf, who is also now on the commission and serves as Mr. Trump's staff secretary, and Senator Thom Tillis, Republican of North Carolina, joined as well, alongside others whom Mr. Trump described as "construction professionals."

Presidents do not typically go to the central bank in an official capacity, reflecting the longstanding independence of the institution

Continued on Page A15



MOHAMMED ZAKARIA AL-MUTAWAQ, ABOUT 18 MONTHS, WITH HIS MOTHER, HEDAYA AL-MUTAWAQ, WHO SAID HE WAS BORN HEALTHY BUT WAS RECENTLY DIAGNOSED WITH SEVERE MALNUTRITION. A DOCTOR SAID THE NUMBER OF CHILDREN DYING OF MALNUTRITION IN GAZA HAD RISEN SHARPLY.

SAIBER ALLOUBARA FOR THE NEW YORK TIMES

Young, Old and Sick Starve to Death in Gaza: 'There Is Nothing'

This article is by Rawan Shalbi, Ahmad, Isabel Kershner and Abu Bakr Bashir.

HAIFA, Israel — Atef Abu Khateer, 17, who was healthy before Gaza was gripped by war, lies in intensive care in a hospital in the north of the Palestinian enclave, suffering from severe malnutrition.

"He is not responding to the treatment," said his father, Aved Abu Khater, 48, who has been sheltering in a tent in Gaza City with his wife and five children. "I feel helpless," he added in a phone call, his voice strained with grief. "We lost our income in the war. Food is unaffordable. There is nothing."

Gaza's hospitals have struggled since early in the war to cope with the influx of Palestinians injured and maimed by Israeli airstrikes and, more recently, by shootings meant to disperse desperate crowds as they surge toward food convoys or head to aid distribution sites.

Now, according to doctors in the territory, an increasing number of their patients are suffering — and dying — from starvation.

"There is no one in Gaza now outside the scope of famine, not even myself," said Dr. Ahmed al-Farra, who leads the pediatric ward at Nasser Hospital in southern Gaza. "I am speaking to you as

A health official, but I, too, am searching for flour to feed my family."

The World Food Program, an arm of the United Nations, said this week that the hunger crisis in Gaza had reached "new and astonishing levels of desperation, with a third of the population not eating for multiple days in a row."

Dr. al-Farra said the number of children dying of malnutrition had risen sharply in recent days. He described harrowing scenes of people too exhausted to walk.

Continued on Page A6

A Trading of Blame as Chaos and Violence Hit Aid Routes

Erst später wird bekannt, dass das Kind zwar mangelernährt ist, aber auch an einer angeborenen Krankheit leidet, die sein Aussehen zusätzlich prägt. Eine Kriegspartei wirft den Medien vor, Propaganda zu betreiben.

Welche Verantwortung tragen Fotojournalistinnen/-journalisten und Redaktionen in solchen Fällen? Beziehe folgende Stichwörter in deine Antwort mit ein:

Journalistische Sorgfaltspflicht, Instrumentalisierung, Menschenwürde, Aussagekraft, Glaubwürdigkeit, Hintergrundinformationen. [5]

- b) Am 10. September 2025 wurde der rechtskonservative Influencer Charles Kirk (1993–2025) bei einem öffentlichen Anlass ermordet. Im Internet kursierten umgehend zahlreiche Aufnahmen der Tat. Sie zeigen, wie Kirk in seinem Stuhl zusammensackt und weggetragen wird, Menschen schreien und rennen davon. Sollen Bilder eines Verbrechens mit tödlichem Ausgang wie in diesem Fall gezeigt werden dürfen – wann und warum ja, wann und warum nicht? Soll oder muss man bezüglich dieser Frage zwischen Social Media und klassischen Massenmedien unterscheiden – warum, warum nicht? [4]

F3 Entwicklungen

KI-basierte Tools übernehmen zunehmend Aufgaben, die vorher von Menschen ausgeführt wurden. Im Juni 2025 kündigte CH Media an, ein KI-basiertes Korrekturwerkzeug einzuführen und fünf Mitarbeitende des internen Korrektorats zu entlassen.

Nenne zwei Vorteile, welche sich das Medienunternehmen vom Einsatz dieser neuen Technologie erhoffen könnte, und erläutere weiter zwei mögliche Kritikpunkte gegen den Einsatz des KI-Werkzeugs im journalistischen Alltag. [4]